








**Ключи к заданиям школьного этапа Всероссийской олимпиады школьников
по обществознанию 2022-2023 учебного года
5-7 класс**

<p>1. Верны ли следующие утверждения? Если утверждение является верным, вставьте «да», если неверным - «нет». (1 балл за каждый правильный ответ, максимальный балл – 5 баллов)</p>		
1.	«Бесплатный сыр бывает только в мышеловке!» – высказывание, которое лучше всего описывает «человека экономического».	Да
2.	Фемида и Юстиция – два разных названия для одной богини.	Да
3.	«Полития» – одна из неправильных форм правления по Аристотелю.	Нет
4.	Экономика – наука о том, как приобрести практические навыки по сбережению денежных средств.	Нет
5.	Кастовый строй – одна из древних форм рабства.	Нет
<p>2. Дайте точные ответы на поставленные вопросы. (3 балла за каждый правильный ответ, максимальный балл – 12 баллов)</p>		
1.	ОНА , утвержденная в 2010 году, провозглашает среди основных задач реформирование законодательства о патентах и монополиях. Назовите ЕЁ тремя словами, начинающимися на одну и ту же букву.	<u>Про</u>грамма <u>Пи</u>ратской <u>П</u>артии
2.	Франц Кафка замечал, что правосудие должно стоять на месте, чтобы ИХ показания были точны. Назовите ИХ.	Весы
3.	На следствии по делу декабристов Николая I крайне занимал вопрос, почему во время бунта солдаты кричали: "Да здравствует Император и АЛЬФА !". Какое якобы имя заменено АЛЬФОЙ?	Конституция

4.	<p>В 1752 году Уильям Торнтон выступил в парламенте против возобновления некоей практики, сказав: «Если таково ваше намерение, почему бы сразу не заклеить нас как скот?». В результате парламент отклонил проект, назвав ЕЁ возмутительным вмешательством в частную жизнь граждан. Назовите ЕЁ.</p>	Перепись населения
----	------------------------------------------------------------------------------------------------------------------------------------------------------------------------------------------------------------------------------------------------------------------------------------------------------	--------------------

3. Распределите указанные картинки в две группы и напишите критерий, по которому вы провели соответствующее распределение. Найдите лишнее изображение, которое не подходит не под один из выделенных вами критериев, объясните почему. (по 3 балла за каждое верное распределение, по 3 балла за каждое приведённое правильное объяснение, 3 балла за указанное верно лишнее изображение и приведённое объяснение, максимальный балл – 9 баллов)

А.		Б.	
В.		Г.	
Д.		Е.	
Ж.			



Все выделенные страны имеют монархическую форму правления

6. Расшифруйте приведённые термины: (максимальный балл - 10 баллов, по 2 балла за каждый полностью правильный ответ)

<p>А Ы = В РЧ</p>	<p>Правотворчество</p>
<p>2,1,3</p>	<p>Конформизм</p>
<p>Д ОБЛ ЖК Я</p>	<p>Облигация</p>
<p>2,1,5,3 Ж ГИЯ</p>	<p>Идеология</p>
<p>ОТР</p>	<p>Потребность</p>

Максимальный балл - 50